

# 5. SINIF

ORTAÖĞRETİM KURUMLARINA HAZIRLIK

## DENEME SINAVI - 4 SÖZEL BÖLÜM



Adı ve Soyadı : .....  
Sınıf / Şubesi : .....  
Öğrenci Numarası : .....

DERS ADI	SORU SAYISI	TOPLAM SORU SAYISI	SINAV SÜRESİ (DAKİKA)
TÜRKÇE	15	45	65
SOSYAL BİLGİLER	10		
DİN KÜLTÜRÜ VE AHLAK BİLGİSİ	10		
İNGİLİZCE	10		

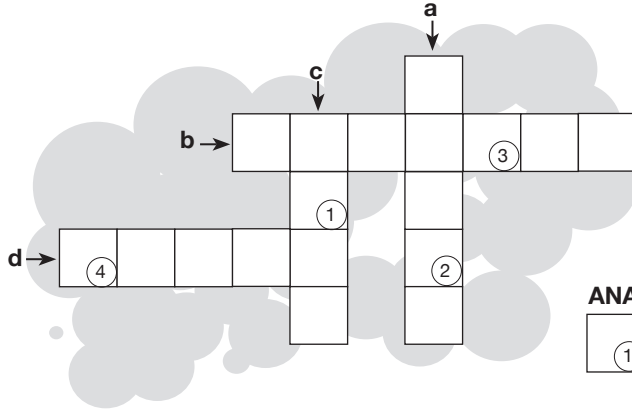
### ÖĞRENCİLERİN DİKKATİNE

1. Sınıf öğrenci yoklama listesinde belirtilen sınıfta ve sıra numarasında oturunuz.
2. Cevap kâğıdındaki kimlik bilgilerinin doğruluğunu kontrol ediniz.
3. Kitapçık türünü cevap kâğıdındaki ilgili alana kodlayınız.
4. Cevap kâğıdı üzerindeki kodlamaları kurşun kalemle yapınız.
5. Puanlama; her test için yanlış cevap sayısının üçte biri, doğru cevap sayısından çıkarılarak elde edilecek geçerli cevaplar üzerinden yapılacağı için cevap kâğıdı üzerinde rastgele cevaplama yapmayınız.

**SINAVA BAŞLAMADAN ÖNCE  
KİTAPÇIĞIN ARKA KAPAĞINDAKİ UYARILARI MUTLAKA OKUYUNUZ.**

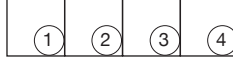
1. İnsan dâhil tüm canlıların besin kaynağıdır tuz. Tarih boyunca tuz o kadar değerli olmuştur ki eski zamanlarda, bazı ülkeler tarafından asker ve işçilerin maaşları karşılığında verilmiş. Böylece bu küçük maden, paranın yerini tutmuştur.

**Bu metindeki bazı sözcüklerin eş veya zıt anlamları aşağıda verilmiştir. Bu sözcüklerin ayraç içinde istenen anlamlarını metinden bularak aşağıdaki bulmacaya yerleştiriniz.**



- a. Gıda (eş anlam)  
b. Kıymetli (eş anlam)  
c. Yeni (zıt anlam)  
d. Büyük (zıt anlam)

**ANAHTAR SÖZCÜK**



**Numaralanmış kutularda yer alan harfler “ANAHTAR SÖZCÜK” bölümüne yerleştirildiğinde aşağıdakilerden hangisi oluşur?**

- A) 

S	İ	N	İ
---	---	---	---

 B) 

S	İ	N	E
---	---	---	---

 C) 

S	İ	R	K
---	---	---	---

 D) 

Ş	İ	R	K
---	---	---	---

2. • Cümle içinde virgüllerle ayrılmış tür veya takımları birbirinden ayırmak için noktalı virgül konur.  
• Ögeleri arasında virgül bulunan sıralı cümleleri birbirinden ayırmak için noktalı virgül konur.

**Bu açıklamalara göre aşağıdaki cümlelerin hangisinde noktalı virgül (;) yanlış kullanılmıştır?**

- A) Muhabbet kuşunun başı, gövdesi beyaz; boynu, sırtı ve kuyruğuysa deniz mavisidir.  
B) Köyümüzün muhtarı fukaraya, gariplere, zayıflara bakar; sofrasından hiç misafir eksik etmezdi.  
C) Künefe, taş kadayıf Hatay'ın; baklava, şöbiyet ve katmer Gaziantep'in sevilen tatlılarıdır.  
D) Gündelik olayları kuklalar aracılığıyla seyirciye aktaran Karagöz'ün iki temel oyuncusu vardır; Karagöz ve Hacivat.

3. Eylemin gerçekleşmesinin bir koşula (şarta) bağlı olduğunu bildiren cümleye koşul cümlesi denir.


**Buna göre,**

(I) Kedilerin yaptıkları hareketlerin çoğunun bir anlamı vardır. (II) Kedi doğrudan size bakıp “miyav” diyorsa bir şey istiyordur. (III) Gözlerini kısarak mırılıyorsa bu onun mutlu olduğu anlamına gelir. (IV) Sırtını kamburlaştırmışsa başka bir kedi ya da canlıyı korkutmaya çalışıyordur.

**metninde numaralanmış cümlelerden hangisinde koşul anlamı yoktur?**

- A) I. B) II. C) III. D) IV.

4 ve 5. soruları aşağıdaki karikatüre göre cevaplayınız.



4. Bu parçadan aşağıdakilerden hangisi doğrudan çıkarılamaz?

- A) Başkalarının dalgınlığıyla elde edilecek başarı, başarı sayılmaz.
- B) Bir işte önemli olan çabukluk değil, kararlılıktır.
- C) Kendini beğenme ve başkalarından üstün tutma zararlıdır.
- D) Hayatta hiçbir rakip asla küçümsenmemelidir.

5. Bu karikatürle ilgili aşağıdakilerden hangisi söylenemez?

- A) Hikâye edici bir metinden alınmıştır.
- B) Yaşanabilir bir olay anlatılmıştır.
- C) Hayalî unsurlar barındırmaktadır.
- D) Zaman unsuru belirgin değildir.

- 6. • Yeşillığe bakmak insana huzur vermiştir.
- Amcam beş çocuklu bir aileye bakıyor.
- Sen derslerine bak, gerisini düşünme!

“Bakmak” sözcüğü bu cümlelerde aşağıdaki anlamlarından hangisiyle kullanılmamıştır?

- A) Beslemek, geçindirmek
- B) Bakışı bir şey üzerine çevirmek
- C) Uğraşmak, meşgul olmak
- D) Gözetmek, korumak

- 7. Gözyaşları gözün hemen üzerindeki gözyaşı bezlerinden gelir. Gözyaşı, göz küresini nemlendirmek, temiz tutmak ve mikroorganizmalardan korumak için sürekli olarak salgılanır ve gözyaşı kanallarından geçerek burnumuza ve boğazımızın arkasına akar. - - - bu amaçlarla akan gözyaşı miktarı çok az olduğu için normalde bunu hissetmeyiz bile.

Bu parçada boş bırakılan yere aşağıdaki sözcüklerden hangisi getirilirse parçanın anlam akışı bozulur?

- A) Fakat
- B) Ama
- C) Çünkü
- D) Ancak

8. Türkçede ekler, eklendiği sözcüğün anlamını değiştirir veya değiştirmez. Örneğin “kitap” sözcüğü bir konuda yazılmış eseri anlatır. Bu sözcük “-lık” ekini aldığı anda “kitaplık” şeklini alır ve “kitapların yerleştirildiği raflardan oluşan mobilya, kütüphane” anlamına gelir. Ancak “kitap” sözcüğü “-ı” ekini aldığı anda bir konuda yazılmış eseri ifade etmeye devam eder.

Aşağıdaki tabloda, verilen eklerin köklere eklenmesi sonucunda sözcüğün anlamının değişip değişmediğiyle ilgili bir işaretleme yapılmıştır.

Kök	Ek	Kök+Ek	Anlamı Değişti	Anlamı Değişmedi
köy	-lü	köylü	√	
kalem	-den	kalemden		√
----	----	----		√
----	----	----	√	

Buna göre tabloda boş bırakılan yerlere aşağıdakilerden hangisi gelebilir?

A)

ev	-cil	evcil
cephe	-i	cepheyi

B)

yat-	-ak	yatak
eylül	-de	eylülde

C)

toprak	-lar	topraklar
can	-sız	cansız

D)

defter	-im	defterim
martı	-lar	martılar

9. Zeybek; çeşitli kutlamalarda, eğlencelerde ve gösterilerde tek kişi, karşılıklı olarak iki kişi ya da grup hâlinde oynanabiliyor. Zeybek oyununda erkekler genellikle diz hizasında işlemeli şalvar, cepken denilen bir üst giysisi ve çizme giyer. Şalvarın üzerineyse kuşak sararlar. Ayrıca fes adı verilen bir başlık takarlar. Kadınlarsa genellikle işlemeli şalvar ve gömlek, üzerlerine de üç etek denilen ayrı bir giysi giyerler. Başlarına da başlık ve yazma takarlar.

Buna göre aşağıdaki görsellerden hangisi zeybek oyununa aittir?



10. Aşağıdaki afişlerin hangisinde kişisel düşünceye yer verilmemiştir?



11.



1. İsteddiğiniz miktardaki meyveleri yıkayıp temizledikten sonra küçük küçük doğrayın.
2. Meyve parçalarını bir tencereye alıp üzerine 3-4 adet karanfil atın.
3. Karışımın üzerini geçecek kadar tencereye su ekleyin ve pişirin.
4. İyice ezilir hâle geldikten sonra bir kaşık yardımıyla meyveleri tencerede ezin.
5. - - - -
6. Çıkan suyu tekrar tencereye alıp pişirin.
7. Ilıdıktan sonra buzdolabında dinlendirin.

**Evde meyve suyu hazırlanma aşamalarının verildiği bu metinde boş bırakılan yere aşağıdakilerden hangisi getirilmelidir?**

- A) Katı posasını almak için süzgeçten geçirin.
- B) Karışıma bir miktar şeker ve limon suyunu ilave edin.
- C) Çıkan suyu bardaklara doldurup servis edin.
- D) Hazırladığınız karışımı geniş bir kâseye boşaltın.

12. Hayatımız boyunca öğrendiklerimizin bir kısmını kalıcı hâle getirebilsek de diğer bir kısmını ya hatırlamayız ya da hayatımıza uzun süreli uygulayamayız. Bu yüzden Konfüçyüs "Duyduğumu unuturum, gördüğümü hatırlarım, yaptığımı anlarım." diyerek kalıcı öğrenmenin yolunu göstermiştir.

**Buna göre aşağıdakilerden hangisinde öğrenme daha kalıcı olur?**

- A) Tiyatro gösterisi izlemek
- B) Radyodaki bir röportajı dinlemek
- C) Bir dergideki resimlere bakmak
- D) Yeni bir afiş tasarlamak

13. Baykuşlar avlarının sindiremedikleri bölümlerini pelet adı verilen topaklar hâlinde kusar. Aşağıda baykuş peleti kemik tablosu ve bir baykuş peleti verilmiştir.

**Baykuş Peleti Kemik Tablosu**

	Kemirici	Böcekçil	Köstebek	Kuş
Kafatası				
Çene				
Kürek kemiği				
Ön bacak				
Arka bacak				



Baykuş Peleti

Buna göre görseldeki baykuş peleti, aşağıdaki hayvanlardan hangisine ait olabilir?

A)



B)



C)



D)



14. Deyimler, bir olayı ya da durumu etkileyici bir biçimde ifade etmek için kullanılan kalıplaşmış söz gruplarıdır. Örneğin “umduğunu ele geçirememek” anlamında - - - -, “çok sevinmek” anlamında - - - -, “gerekmeden her işe karışmak” anlamında - - - - deyimini kullanılır.

Aşağıdaki deyimlerden hangisi bu metinde boş bırakılan yerlerden herhangi birine getirilemez?

A) burnunu sokmak

B) dilini tutamamak

C) ayakları yere değmemek

D) avucunu yalamak

15. Herhangi bir durumdan duyulan rahatsızlığın dile getirildiği, şikâyet bildiren cümlelerde yakınma anlamı vardır.

Buna göre aşağıdaki cümlelerin hangisinde yakınma anlamı vardır?

A) Keşke sevdiğilerime sevgimi zamanında ifade edebilseydim.

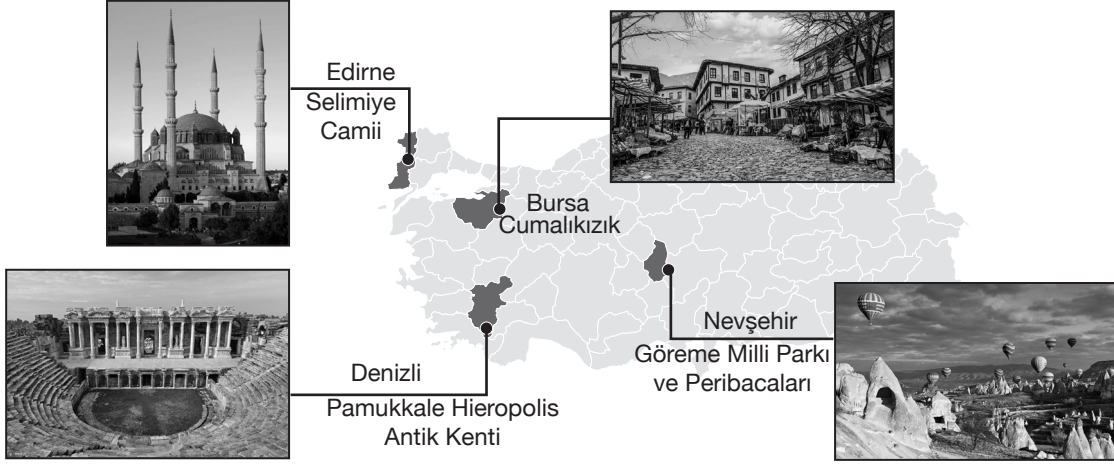
B) Ciğerlerimiz olan ormanların yok edilmesine toplum sessiz kalıyor.

C) Acaba ülkemiz bir gün gelişmiş ülkeler kategorisine girer mi?

D) Okulu bitirecek de iş sahibi olacak da eve ekmek getirecek.



1.



Buna göre verilen haritada;

1. Doğal varlık      2. Tarihî mekân      3. Tarihî nesne

gibi kavramlardan hangilerine örnek verilmiştir?

A) Yalnız 1.      B) 1 ve 2.      C) 2 ve 3.      D) 1, 2 ve 3.

2. Şanlıurfa'nın Harran ilçesinde yaşayan Mahmut Kızıl, Harran evleriyle ilgili Anadolu Ajansıyla şu bilgileri paylaştı.

"Babam 30 yıl önce bu evi aslına uygun düzenleyip turizme kazandırdı. O günden itibaren bu işle uğraşyoruz. Gelen ziyaretçiler burada farklı bir atmosfer yaşıyor, insanlar yöresel kıyafetler giyip, fotoğraf çektiriyor. Bu evler hava şartlarına göre yapılmış, yazın serin, kışın sıcak kalıyor. Her bir kubbe bin beş yüz tuğladan oluşuyor. Kerpiç tuğlaların harçları ise gül yağı, yumurta akı, pişirilmiş toprak ve samandan oluşmuş. 2-3 yılda bir duruma göre sıvası yapılıyor, yoksa aradaki toprak kayar ve duvarlar yıkılır. Bunun için evlere özenle bakıyoruz çünkü bunlar bizim kültürel değerimiz."

Genel Ağ'da yayınlanan bu habere göre Harran evleriyle ilgili aşağıdakilerden hangisi söylenemez?

- A) İklimin insanların günlük yaşantısını etkilediği
- B) Bir kültür mirası olarak değerlendirildiği
- C) Doğada insan eli değmeden oluşan yapılar olduğu
- D) Birçok turist tarafından ziyaret edildiği

3.

"Yaz aylarında hava ne kadar kavurucu olursa olsun her daim rüzgârın olduğu Bozcaada'da rüya gibi bir tatil yapabilirsiniz. Akvaryuma benzeyen berraklıkta Bozcaada koyuları, plajları, üzüm bağları, müzik ve sanat festivalleri ve daha birçok özelliğiyle Bozcaada'ya gitmek için çok nedeniniz var. Üstelik Çanakkale üzerinden ister araçla ister gemiyle rahatça gidebileceğiniz Bozcaada, yaz dönemi için eğlenceli bir seçenek olabilir."

Verilenlere göre Bozcaada'nın;

- 1. Ulaşım
- 2. Kültür
- 3. İklim

gibi unsurların hangileri bakımından önemli avantajlara sahip olduğu söylenebilir?

A) Yalnız 1.      B) Yalnız 2.  
C) 2 ve 3.      D) 1, 2 ve 3.

4.



**Bu haritada verilen uygarlıkların ortak özellikleri arasında aşağıdakilerden hangisi yer almaz?**

- A) Geçimlerini ticaret ile sağlamaları  
B) Yönetim anlayışlarının benzer olması  
C) Su kaynaklarına yakın kurulmaları  
D) Belli bir merkezden yönetilmeleri

5. Çocuk Hakları Sözleşmesi "dinleri, ırkları, kültürleri veya yetenekleri ne olursa olsun; ne düşündükleri veya söyledikleri gözetilmeksizin; kız veya erkek, zengin veya fakir fark etmeksizin tüm çocuklar eşittir" esasını kabul etmiştir.

**Buna göre Çocuk Hakları Sözleşmesi'nin aşağıdakilerden hangisine yönelik hedeflere sahip olduğu söylenebilir?**

- A) Farklı kültürleri tanıtırma  
B) Hak ve sorumlulukları artırma  
C) Ayrımcı anlayışa son verme  
D) Çevre duyarlılığı kazandırma

6. Tarihi İpek Yolu güzergâhında bulunan Gaziantep'te çeşitli kültürlerin buluşması nedeniyle yaklaşık 252 çeşit yemek türü yer alıyor. Gaziantep mutfağı denildiğinde akla ilk gelen yemekler arasında bulunan kebabın tam 32 çeşidi yapılıyor.

**Verilen bilgilerde Gaziantep'le ilgili aşağıdakilerden hangisi vurgulanmıştır?**

- A) Doğal kaynaklarının fazla olduğu  
B) Zengin bir kültüre sahip olduğu  
C) Çevresindeki diğer kültürleri etkilediği  
D) Kültürünün zamanla değiştiği



7.



“Kültürün ilk basamağı ana dilini iyi konuşmak ve yazmaktır.”

**Ünlü Türk düşünürü Peyami Safa'nın bu ifadelerinde aşağıdakilerden hangisinin önemine değinilmiştir?**

- A) Halk oyunlarımızın yaşatılmasının
- B) Bayramlarda büyüklerimizi ziyaret etmenin
- C) Geleneksel el sanatlarımızı korumanın
- D) Yabancı kelimelerin yerine Türkçe karşılıklarını kullanmanın

8. Akdeniz iklimi; Ege, Marmara ve Akdeniz kıyılarında görülen nemli bir iklim tipidir. Bu iklimin görüldüğü yerlerde yazlar sıcak ve kurak, kışlar ise ılık ve yağışlı geçer.

**Verilenlere göre Akdeniz iklimiyle ilgili aşağıdakilerden hangisi söylenemez?**

- A) Yıllık ve günlük sıcaklık farkları çok fazladır.
- B) Yaz aylarında genelde yağış görülmez.
- C) Kış aylarında sıcaklık ortalaması 0 °C'nin altına düşmez.
- D) Yaz aylarında tarımda sulama ihtiyacı fazladır.

9. Geçmişten günümüze Türkiye'de nüfusun genellikle Fırat, Dicle, Kızılırmak, Küçük ve Büyük Menderes, Seyhan ve Ceyhan gibi nehirlerin kıyısında toplandığı görülür.

**Bu bilgilere göre ülkemizde nüfusun dağılışında aşağıdakilerden hangisi rol oynamaktadır?**

- A) İklim özellikleri
- B) Yer altı kaynakları
- C) Su kaynakları
- D) Ulaşım faktörleri

10.

## hızlıhaber

Son Dakika

Gündem

Spor

### SON DAKİKA

İstanbul'da öğlen saatlerinde çok şiddetli bir deprem meydana geldi. Silivri açıklarında meydana gelen deprem sonrası milyonlarca kişi sokağa döküldü. Kandilli Rasathanesi ve AFAD, depremin büyüklüğünü açıkladı. İstanbul'da yaşanan korku dolu anların ardından İstanbul Valiliğinden de önemli bir açıklama geldi. Valilik İstanbul'un bazı ilçelerinde okulların tatil edildiği duyurusunu yaptı. AFAD ve Kızılay hasarlı ve riskli binalardaki vatandaşlara “evlerinizi terk edin” uyarısında bulundu.

**İstanbul'da 26 Eylül 2019 tarihinde yaşanan depremle ilgili verilen bu habere göre aşağıdakilerden hangisi söylenemez?**

- A) İstanbul'un deprem riski ile karşı karşıya olduğu
- B) Depremin belli ilçelerde can kaybına yol açtığı
- C) Doğal afetlerin insanların günlük hayatını etkilediği
- D) Yetkililerin halkı korumaya yönelik adımlar attığı

1.



Konuşurken kullandığımız ifadeleri, ses tonumuzu, hareketlerimizi doğru seçersek kendimizi daha iyi anlatabiliriz. İnsanları kırmadan, onlara değer verdiğimiz hissettirerek konuştuğumuzda onlar üzerinde daha çok etkili oluruz. Bu nedenle çevremizle iletişimimizde konuşma üslubumuza ve konuşma adabına uygun davranmamız gerekir.

**Buna göre aşağıdakilerden hangisi konuşma adabına uygun bir davranıştır?**

- A) Konuşmacıyla göz teması kurmak
- B) Bağırarak konuşmak
- C) Çok sık, el-kol hareketleri yapmak
- D) Fısıltı şeklinde konuşmak

2. Selamlaşmak hem bir nezaket kuralı hem de İslam dinine göre toplumda yaygınlaştırılması istenen bir davranıştır.

**Bu düşünceyle aşağıdaki ayetlerden hangisi ilişkilendirilebilir?**

- A) "Size bir selâm verildiği zaman, ondan daha güzeliyle veya aynı selâmla karşılık verin. Şüphesiz Allah, her şeyin hesabını gereği gibi yapandır."

(Nisa suresi, 86. ayet)

- B) "Artık Allah'ın size helâl ve temiz olarak verdiği rızıklardan yiyin. Eğer yalnız O'na ibadet ediyorsanız, Allah'ın nimetine şükredin."

(Nahl suresi, 114. ayet)

- C) "Hep birlikte Allah'ın ipine sınımsız yapışın; bölünüp parçalanmayın. Allah'ın size olan nimetini hatırlayınız..."

(Âl-i İmrân suresi 103. ayet)

- D) "Siz, insanların iyiliği için ortaya çıkarılmış en hayırlı ümmetsiniz; iyiliği emreder, kötülükten alıkoyar ve Allah'a inanırsınız..."

(Âl-i İmrân suresi, 110. ayet)

3. İnsanın çevresindekilere karşı gösterdiği kibar ve görgülü davranışlara nezaket denir. Nezaket sayesinde insanlar birbirleriyle çok daha iyi geçinirler. Nezaket gösteren insanlar toplumda "beyefendi" ve "hanımefendi" olarak adlandırılırlar.

**Buna göre aşağıdakilerden hangisi nezaket kurallarına uygun bir davranış değildir?**

- A) Hasta ziyaretlerini kısa tutmak
- B) Konuşan insanın sözünü kesmek
- C) Yapılan iyilikler için teşekkür etmek
- D) Özel hayatın gizliliğine saygı duymak

4. "Ey Rabbimiz! Bize dünyada da ahirette de iyilik ver. Bizi, cehennem azabından koru."

"Ey Rabbimiz! Ahirette hesabın görüleceği gün beni, annemi, babamı ve tüm müminleri bağışla."

**Aşağıdakilerden hangisi bu dualarda verilen mesajlardan biridir?**

- A) Kişi, sadece kendisi için dua etmelidir.
- B) Kişi, Allah'tan sadece dünya mutluluğu istemelidir.
- C) Kişi, annesi ve babası için dua etmelidir.
- D) Kişi, sadece cennete gitmek için çalışmalıdır.

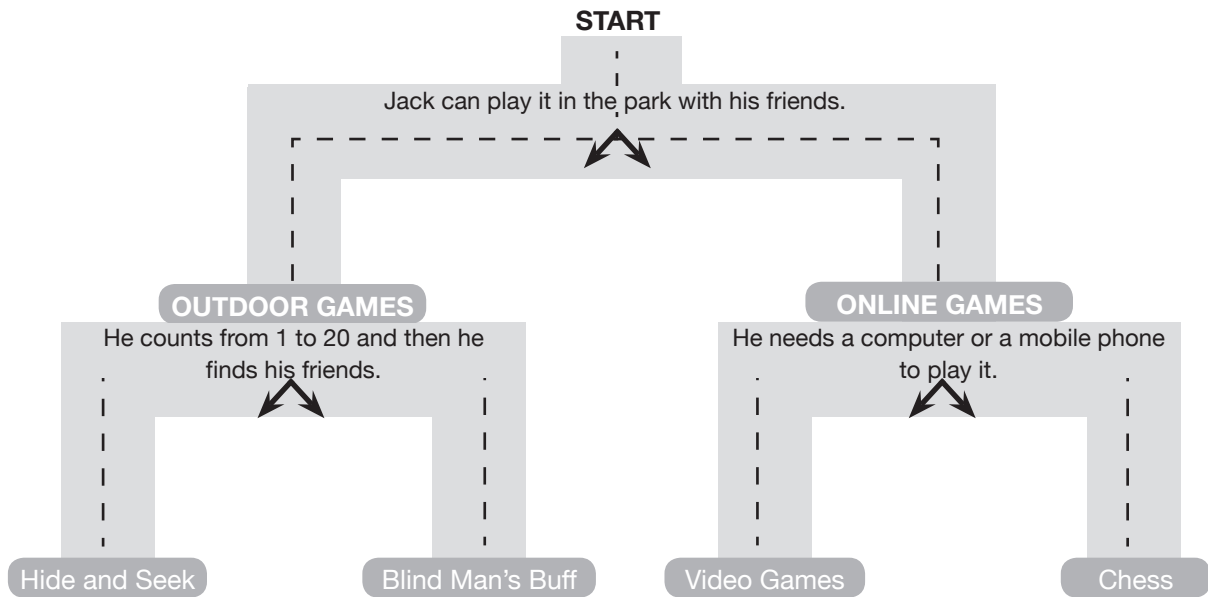
5. Kendi el emeğiyle geçimini sağladı. Yüce Allah, ona zırh yapmayı öğretmişti. Bu zırhları satarak geçinirdi. O yaptığı sağlam ve dayanıklı zırhlar sayesinde İsrailoğullarına da savaşta avantaj sağlamış oluyordu. Müslümanlar onun kendi el emeğiyle geçinmesinden ve üretmek içinde yaşadığı topluma katkı sunmasından dersler çıkarmalıdır. Ayrıca ibadete çok düşkündü. Güzel sesiyle sabah akşam Yüce Allah'ı zikrederdi. Bugün dilimizde "dâvûdî ses" deyimini bize ondan kalan bir hatıradır.

**Bu metinde sözü edilen peygamber aşağıdakilerden hangisidir?**

- A) Hz. İbrahim
- B) Hz. Davut
- C) Hz. Muhammed
- D) Hz. Âdem



1. Follow the correct road and find Jack's favourite game.



A) Hide and Seek

B) Blind Man's Buff

C) Video Games

D) Chess

2.



Hi, I'm Teresa. I study at Lisbon Secondary School. I get up at eight o'clock on weekdays, then I have breakfast at half past eight and go to school at nine. I come back home at quarter to three, then I do my homework, feed my pet and read a book. My dad comes back home at half past six and we have dinner at seven.

Which of the following times **DOES NOT** Teresa say?

A)



B)







C)



D)



3. Emily, Tom, Sue and Vicky are ill. The table below shows their needs.

1. ----	
2. ----	
3. ----	
4. ----	

Emily has a terrible stomachache and she needs a hot water bottle. Vicky has a cut on her finger. She needs a plaster. Sue has a fever and she needs an ice bag. Tom has a headache and he needs some medicine.

Which of the following is the **CORRECT** order to fill in the blanks in the table above?

A) Sue – Vicky – Tom – Emily

B) Vicky – Tom – Emily – Sue

C) Emily – Sue – Vicky – Tom

D) Tom – Emily – Sue – Vicky

4.



What's the matter with you?

**Meg** : I have a backache. I feel terrible.

**Pam** : I feel cold.

**Carla**: I have a sore throat. I feel hot, too.

**Angel**: I have the flu. I sneeze.

According to the information above, which of the following shows their illnesses?

	Meg	Pam	Carla	Angel
A)				
B)				
C)				
D)				

5.



Jimmy is ten years old. He studies at Highway Secondary School. He has 7 classes every day. His favourite class is music. He can sing songs and play the guitar very well. He dislikes maths. He is bad at it. His friend, Martin can solve problems and he helps Jimmy with his homework.

There is **NO** information in the text about Jimmy's - - - - .

- A) age  
B) likes  
C) abilities  
D) country

6.



Sena

I have breakfast at 7. My mum takes me to school. I have lunch at the school canteen. I play with my friends after school. I do my homework after dinner. I go to bed at 9.

According to the information above, Sena - - - - .

- A) goes to bed early  
B) goes to school by bus  
C) does her homework in the afternoon  
D) has breakfast at school

7.

Do you get up early?

Do you walk to school?

What time does your school start?

What do you do after school?

Yes, I do. - - - - .

No, I don't. - - - - .

- - - - .

- - - - , and then I have a rest.

Emre                      Eda

Which of the following **DOES NOT** complete the conversation?

- A) I get back home                      B) I wake up at half past six  
C) My school finishes at 3            D) I go to school by bike

8.

Enes: I like playing chess.

Mine: Hopscotch is my favourite game.

Tarik: I am good at table tennis.

Banu: Playing hide and seek is fun.

According to conversations above, which of the following is **ODD**?

A)

B)

C)

D)

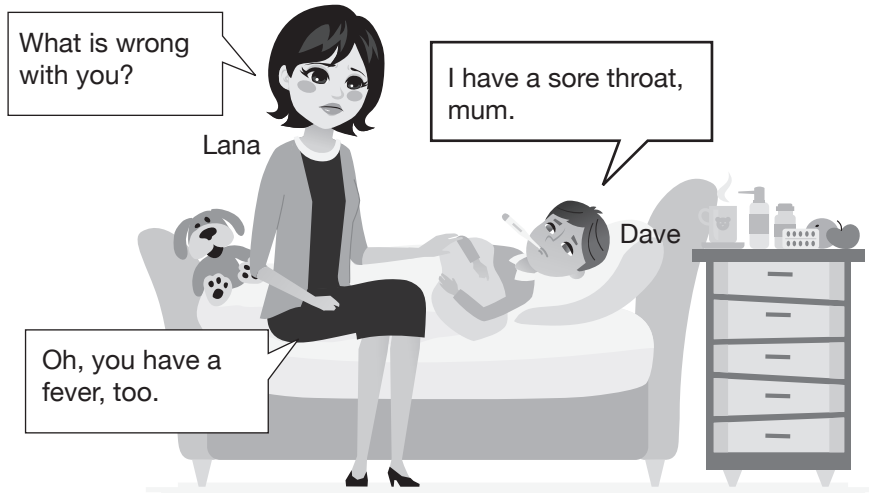


9. Emma: I need some food. I need to go to the grocery. Who describes the correct route?



- A) Mike: Go straight ahead. Take the first left. It is on your left, next to the barber.  
 B) Greg: Turn right into Palm Road. Go straight ahead. Go past the park. It is on your right.  
 C) Jim: Go straight ahead. Take the second right. It is opposite the hotel.  
 D) Paul: Cross Palm Road. Go straight ahead and turn right into Queen Street. It is on your left.

10.



According to the conversation above, which of the following is **CORRECT**?

- A) Lana should have a rest.  
 B) Dave doesn't feel good.  
 C) Dave needs to see a dentist.  
 D) Lana needs an extra blanket.

## SINAV BAŞLAMADAN AŞAĞIDAKİ UYARILARI MUTLAKA OKUYUNUZ

1. Öğrenciler, sınav kurallarına ve salon görevlilerinin tüm uyarılarına uymak zorundadırlar.
2. Cevap kâğıdındaki kimlik bilgilerinin doğruluğunu kontrol ediniz. Bilgiler size ait değilse veya cevap kâğıdı kullanılmayacak durumdaysa sınav görevlilerine bildirin.
3. Sınav başladıktan sonra öğrencilerin salon görevlileri ve birbirleri ile konuşmaları, kalem, silgi vb. şeyleri istemeleri yasaktır.
4. Değiştirmek istediğiniz bir cevabı, yumuşak silgiyle cevap kâğıdını yıpratmadan temizce siliniz ve yeni cevabınızı kodlayınız.
5. Cevap kâğıdınızı silinmeyen bir kalemle imzalayınız.
6. Cevaplarınızı, cevap kâğıdındaki ilgili soru numarasını dikkate alarak yuvarlağın dışına taşırmadan kodlayınız.
7. Soru kitapçığının sayfalarını kontrol ediniz, baskı hatası var ise değiştirilmesini sağlayınız.
8. Soru kitapçığı üzerinde yapılmış cevap kâğıdına işaretlenmeyen cevaplar değerlendirmeye alınmayacaktır.
9. Soru kitapçığının içindeki boş alanları çözümlerinizi için kullanabilirsiniz.
10. Cevaplamaya istediğiniz sorudan başlayabilirsiniz.
11. Cevabını bilmediğiniz sorular üzerinde fazla zaman kaybetmeden diğer sorulara geçiniz. Zamanınız kalırsa bu sorulara daha sonra dönebilirsiniz.
12. Sınav puanınızın hesaplanmasında doğru ve yanlış cevaplarınız dikkate alınacaktır.
13. Sınav bitiminde, soru kitapçığı ve cevap kâğıdını salon görevlilerine teslim ediniz.
14. Sınav sırasında sözlük, hesap makinesi, saat fonksiyonu dışında özellikleri bulunan saat veya çağrı cihazı, cep telefonu, telsiz, radyo ve bilgisayar özelliği bulunan elektronik cihazları yanınızda bulundurmanız halinde sınavınız geçersiz sayılacaktır.
15. Cevap kâğıdınızı sınav süresince hiçbir öğrencinin göremeyeceği şekilde önünüzde bulundurunuz.
16. Sınavınızın değerlendirilmesi aşamasında, toplu kopya tespiti veya başka adayın sınav evrakını kullanmanız durumunda sınavınız geçersiz sayılacaktır.
17. Soruları ve sorulara verdiğiniz cevapları kaydetmeyiniz, hiçbir şekilde dışarı çıkarmayınız.
18. Sınav süresince dışarı çıkılmayacaktır.
19. Sınav evraklarını teslim etmeyenlerin sınavı geçersiz sayılacaktır.

Bu kitapçığın her hakkı saklıdır. Hangi amaçla olursa olsun, kitapçığın tamamının veya bir kısmının Hız Yayıncılık Basım Dağıtım San. ve Tic. A.Ş.'nin yazılı izni olmadan kopya edilmesi, fotoğraflarının çekilmesi, bilgisayar ortamına alınması, herhangi bir yolla çoğaltılması, yayımlanması veya başka bir amaçla kullanılması yasaktır. Bu yasağa uymayanlar, doğabilecek cezai sorumluluğu ve kitapçığın hazırlanmasındaki mali külfeti peşinen kabullenmiş sayılır.